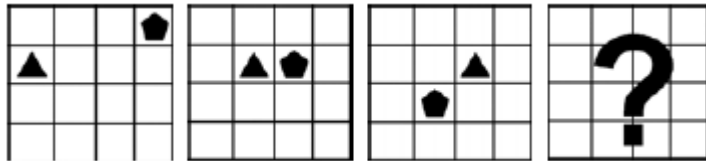


Modelo de recurso para a questão 22 da prova de Raciocínio Lógico para o cargo de Analista de Sistemas – CODEMIG – 2018

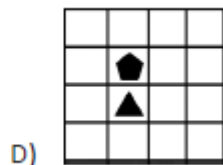
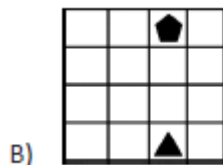
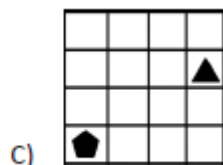
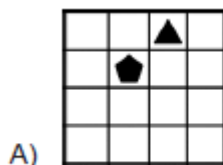
A questão em debate contém o seguinte enunciado e alternativas:

QUESTÃO 22

Observe a série a seguir.



Continuando a sequência e usando o mesmo padrão apresentado, qual será a 4ª figura?

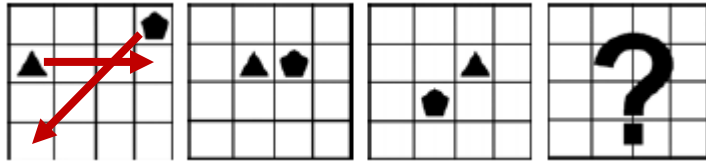


A respeitável banca examinadora considerou a alternativa “D” como gabarito oficial da questão.

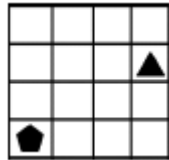
SOLUÇÃO:

De acordo com a sequência de figuras, podemos deduzir que cada figura se relaciona com a figura anterior da seguinte forma:

- O triângulo desloca uma casa na horizontal para a direita.
- O Pentágono desloca uma casa na diagonal para sudoeste.



Desta forma, a 4ª figura será:



Alternativa C.

Por todos os argumentos apresentados, requer à essa r. Banca Examinadora que venha a proceder a alteração do gabarito da referida questão de “D” para “C”.

Termos em que, pede e aguarda deferimento.

Belo Horizonte, 31 de janeiro de 2018.